

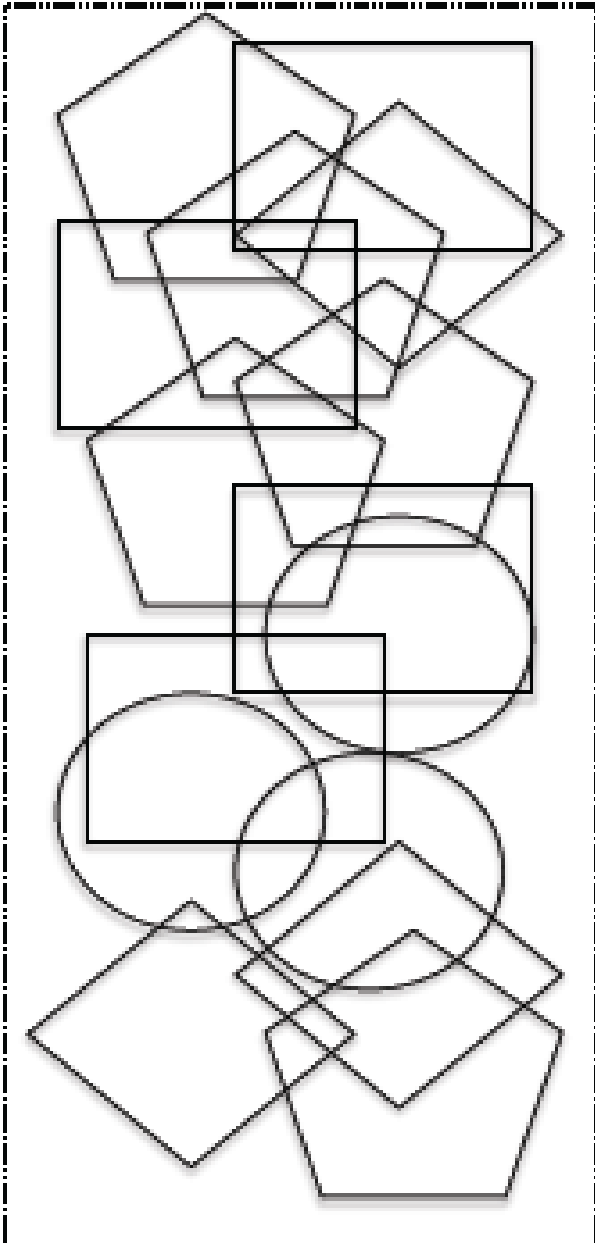


Centros Municipales de Mayores de Móstoles

Nombre:

Fecha:

OBSERVA EL DIBUJO DE ABAJO:



- ¿CUÁNTOS CÍRCULOS HAY? _____

- ¿CUÁNTOS RECTÁNGULOS HAY? _____

- PINTA LOS RECTÁNGULOS DE AZUL

- PINTA LOS CÍRCULOS DE ROJO



Centros Municipales de Mayores de Móstoles

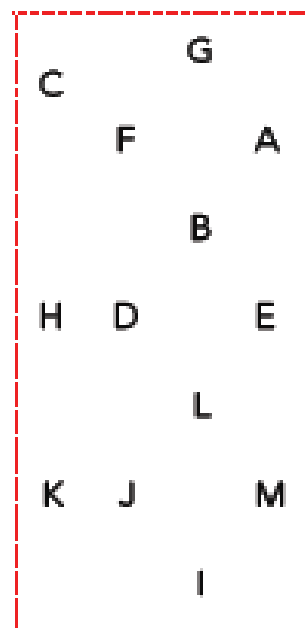
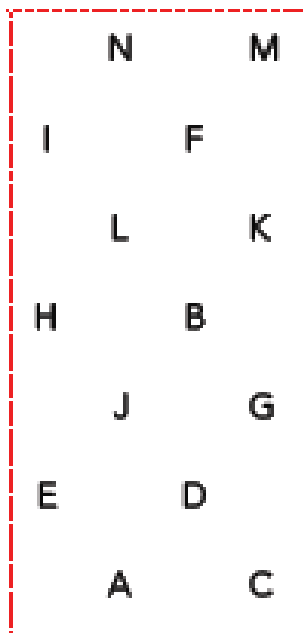
Nombre:

Fecha:

ESCRIBE PALABRAS QUE EMPIECEN POR LAS SIGUIENTES LETRAS:

A	_____	B	_____	C	_____	D	_____
E	_____	F	_____	G	_____	H	_____
I	_____	J	_____	K	_____	L	_____
M	_____	N	_____	P	_____	R	_____
S	_____	T	_____	U	_____	V	_____

¿QUÉ LETRA NO ESTÁ EN LOS 2 CUADROS?



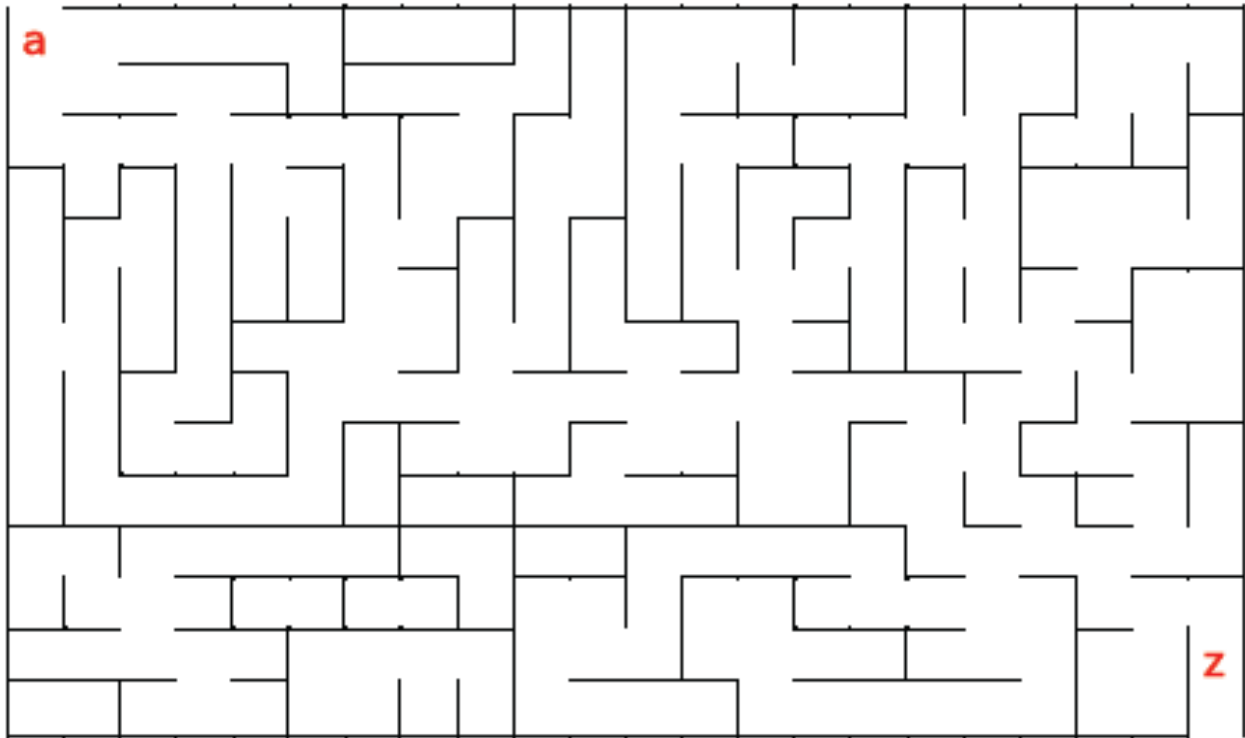


Centros Municipales de Mayores de Móstoles

Nombre:

Fecha:

MARCA EL CAMINO QUE VA DE LA LETRA "A" A LA "Z":



COLOREA LAS PAREJAS DE NÚMEROS QUE SUMAN 17:

7 7	8 6	9 5	11 4	13 4	6 9	4 10	3 14
7 9	9 8	10 7	8 6	11 5	14 4	12 3	15 2
2 13	4 12	6 11	8 10	10 9	12 8	14 7	9 6
1 14	3 12	5 11	7 10	9 6	12 5	13 2	1 16

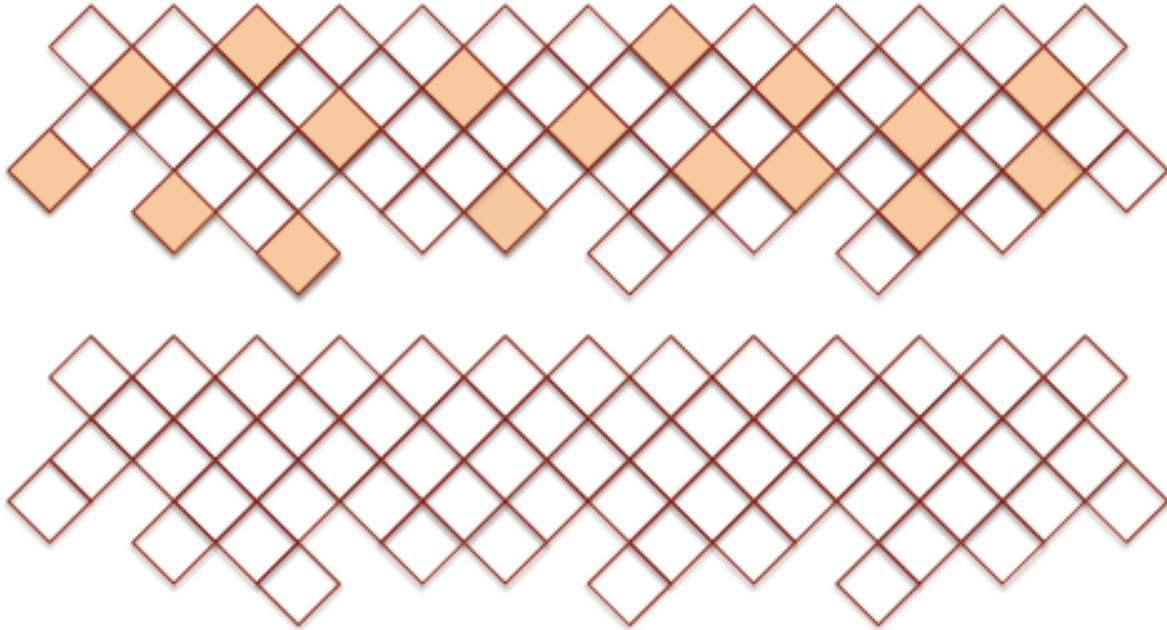


Centros Municipales de Mayores de Móstoles

Nombre:

Fecha:

COLOREA EL DIBUJO DE ABAJO COMO EL DE ARRIBA:



RODEA LAS CASAS QUE SEAN IGUALES:





Centros Municipales de Mayores de Móstoles

Nombre:

Fecha:

REALIZA ESTAS SUMAS:

$$\begin{array}{r} 3012 \\ + 7485 \\ \hline \end{array}$$

$$\begin{array}{r} 6320 \\ + 1452 \\ \hline \end{array}$$

$$\begin{array}{r} 9874 \\ + 2441 \\ \hline \end{array}$$

$$\begin{array}{r} 3021 \\ + 7411 \\ \hline \end{array}$$

$$\begin{array}{r} 3002 \\ + 7415 \\ \hline \end{array}$$

$$\begin{array}{r} 6521 \\ + 6874 \\ \hline \end{array}$$

$$\begin{array}{r} 3201 \\ + 4178 \\ \hline \end{array}$$

$$\begin{array}{r} 3652 \\ + 7999 \\ \hline \end{array}$$

$$\begin{array}{r} 6521 \\ + 4025 \\ \hline \end{array}$$

$$\begin{array}{r} 9365 \\ + 8412 \\ \hline \end{array}$$

$$\begin{array}{r} 6324 \\ + 8777 \\ \hline \end{array}$$

$$\begin{array}{r} 8600 \\ + 4123 \\ \hline \end{array}$$



Centros Municipales de Mayores de Móstoles

Nombre:

Fecha:

COLOREA:

