



Centros Municipales de Mayores de Móstoles

Nombre:

Fecha:

Realiza las siguientes operaciones:



$$\begin{array}{r} 1755 \\ 7146 \\ + 6195 \\ \hline \end{array}$$

$$\begin{array}{r} 937 \\ + 834 \\ \hline \end{array}$$

$$\begin{array}{r} 93182 \\ 49974 \\ + 75182 \\ \hline \end{array}$$

$$\begin{array}{r} 72 \\ - 0 \\ \hline \end{array}$$

$$\begin{array}{r} 2602 \\ - 679 \\ \hline \end{array}$$

$$\begin{array}{r} 820 \\ - 163 \\ \hline \end{array}$$

$$\begin{array}{r} 456 \\ 764 \\ + 818 \\ \hline \end{array}$$

$$\begin{array}{r} 899 \\ - 313 \\ \hline \end{array}$$

$$\begin{array}{r} 766 \\ 78 \\ 16 \\ + 5 \\ \hline \end{array}$$

$$\begin{array}{r} 891 \\ 934 \\ 441 \\ + 977 \\ \hline \end{array}$$



Centros Municipales de Mayores de Móstoles

Nombre:

Fecha:

Escribe los días de la semana desde el último al primero:

Escribe los meses del año desde el último al primero:

¿Qué es lo que más te gustó del día de ayer?:




Centros Municipales de Mayores de Móstoles

Nombre:

Fecha:

¿Cuántos objetos hay en cada cuadro? Escribe el resultado a la derecha.



Sigue la serie hasta llegar a un número de tres cifras:

21 - 24 - 27 -


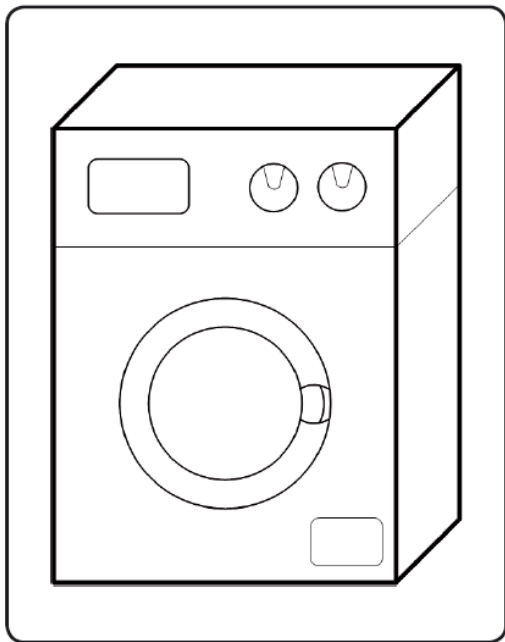


Centros Municipales de Mayores de Móstoles



Nombre:

Fecha:

Dibuja a la derecha esta lavadora:



Dibuja a la derecha esta manzana:





Centros Municipales de Mayores de Móstoles

Nombre:

Fecha:

